

UNIDAD

2

- **Atención a la diversidad**

Ficha 1 (Refuerzo)

Ficha 2 (Ampliación)

- **Evaluación**



www.anayaeducacion.es

Todas las fichas de este libro son material fotocopiable autorizado. En www.anayaeducacion.es encontrará su versión imprimible.

Otros recursos en www.anayaeducacion.es

En el apartado Propuesta didáctica:

- Soluciones de todas las fichas incluidas en este libro.

En el apartado Banco de recursos:

- ADI (actividades para el desarrollo de la inteligencia)
- Actividades complementarias

En el sitio web del cuaderno,
dentro de
www.anayaeducacion.es,
encontrará las soluciones de todas las
actividades incluidas en él.

1 Realiza estas sumas:

$$\begin{array}{r} 5485 \\ 399 \\ + 4073 \\ \hline \end{array}$$

.....

$$\begin{array}{r} 4937 \\ 7932 \\ + 859 \\ \hline \end{array}$$

.....

$$\begin{array}{r} 7803 \\ 442 \\ + 668 \\ \hline \end{array}$$

.....

$$\begin{array}{r} 4470 \\ 7025 \\ + 936 \\ \hline \end{array}$$

.....

2 En estas sumas faltan cifras. Complétalas:

$$\begin{array}{r} \square \square \square \square \\ + 5732 \\ \hline 12567 \end{array}$$

$$\begin{array}{r} \square \square \square \square \\ - 4613 \\ \hline 2789 \end{array}$$

3 Resuelve.

a) $5087 + 363 = \dots\dots\dots$ b) $70092 + 4600 = \dots\dots\dots$

c) $363 + 5087 = \dots\dots\dots$ d) $4600 + 70092 = \dots\dots\dots$

¿Cómo son los resultados en cada caso?

¿Qué propiedad de la suma comprobamos?

4 Realiza estas restas y haz la prueba:

a) $\begin{array}{r} 9234 \\ - 1842 \\ \hline \end{array}$	PRUEBA
--	--------

b) $\begin{array}{r} 7543 \\ - 638 \\ \hline \end{array}$	PRUEBA
---	--------

5 Completa la tabla.

Minuendo	650	402		954	
Sustraendo	390		608	377	830
Diferencia		288	277		592

2

Nombre y apellidos: _____

Fecha: _____

Matemáticas 3.º

**Ficha
2****1** Calcula.

$$\begin{array}{r} a) \quad 8543 \\ \quad 309 \\ + 6072 \\ \hline \end{array}$$

.....

$$\begin{array}{r} b) \quad 2090 \\ \quad 538 \\ + \quad 639 \\ \hline \end{array}$$

.....

$$\begin{array}{r} c) \quad 7060 \\ \quad 2597 \\ - \quad 2597 \\ \hline \end{array}$$

.....

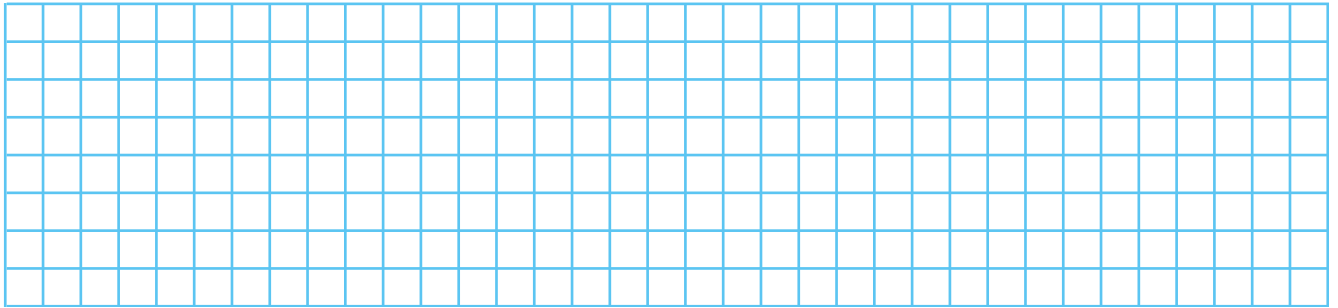
$$\begin{array}{r} d) \quad 8002 \\ \quad 997 \\ - \quad 997 \\ \hline \end{array}$$

.....

2 Calcula estas sumas de dos formas:

a) $347 + 400 + 650$

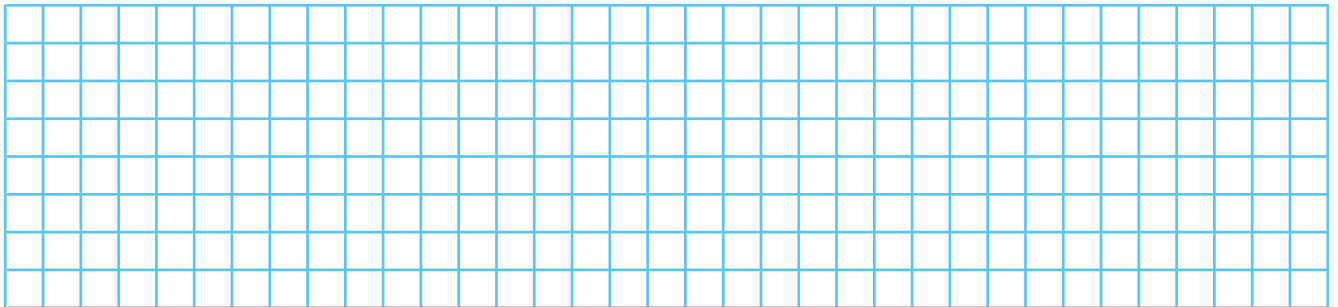
b) $635 + 375 + 200$

**3** Haz la prueba de la resta para saber si están bien hechas.

a) $4710 - 867 = 3843$

b) $7252 - 4808 = 2733$

c) $5902 - 4974 = 1928$

**4** Completa la tabla.

Minuendo	9077	7001		10000	5020
Sustraendo	5670		1244	7643	945
Diferencia		6742	5632		

5 Continúa las series.

a) $210 - 240 - 270 - \dots$ hasta 420

b) $810 - 765 - 720 - \dots$ hasta 540

6 Escribe las cifras que faltan en estas operaciones:

$$\begin{array}{r} 3 \ 5 \ \square \ 4 \\ 6 \ 0 \ 0 \ \square \\ + \ 4 \ \square \ 2 \ 8 \\ \hline 1 \ \square \ 7 \ 5 \ 5 \end{array}$$

$$\begin{array}{r} 8 \ 2 \ \square \ 3 \\ - \ \square \ \square \ 5 \ 4 \\ \hline 5 \ 5 \ 5 \ \square \end{array}$$

7 Calcula.

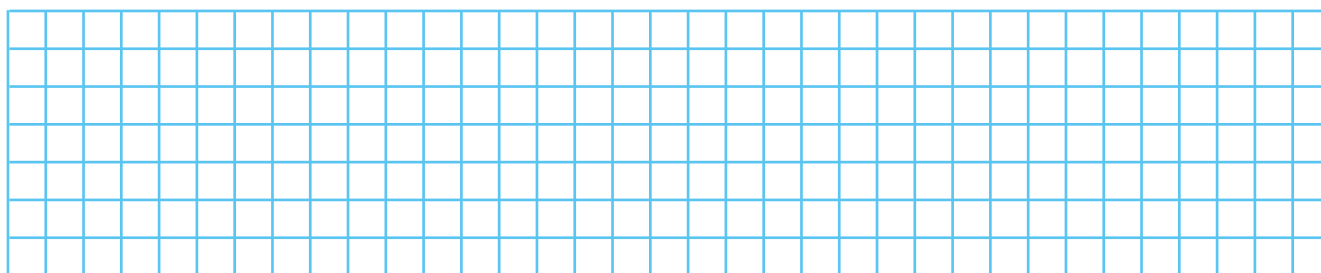
a) $(20 + 12) - (30 - 25) = \dots\dots\dots$

b) $70 - (25 + 15 + 8) = \dots\dots\dots$


8 Completa la tabla.

Operaciones	Cálculo estimado	Cálculo exacto con la calculadora
79426 + 51237		
41062 + 38805		
40415 - 10880		
89823 - 59150		

9 Carlos tenía 310 canicas. Regaló 97 a Juan y 68 a Fernando. Además, su padre le regaló 45 más. ¿Cuántas canicas le quedan?



10 ¿Cuántos kilómetros hay desde Renedo hasta Villacorta? ¿Y desde Grado hasta Saldaña?



1 Calcula.

$$\begin{array}{r} \text{a) } 6879 \\ 8763 \\ + 375 \\ \hline \end{array}$$

.....

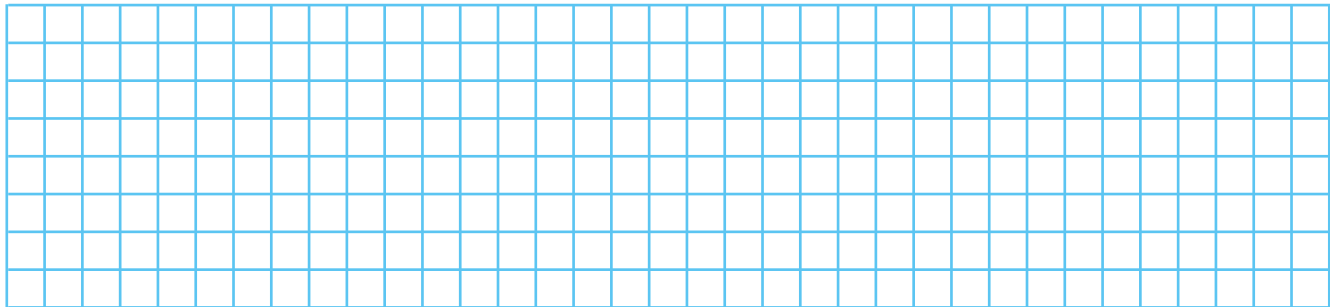
$$\begin{array}{r} \text{b) } 8902 \\ - 3457 \\ \hline \end{array}$$

.....

2 Coloca en columna y resuelve.

a) $3594 + 9340 + 874$

b) $70253 - 5784$



3 Calcula y compara los resultados.

a) $2345 - (904 - 365) = \dots\dots\dots$

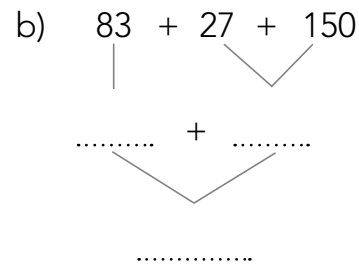
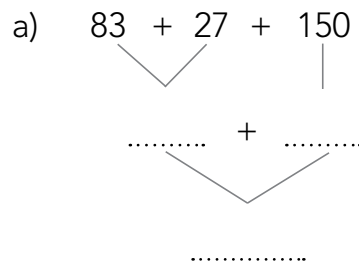
b) $(2345 - 904) - 365 = \dots\dots\dots$

¿Son iguales o distintos los resultados obtenidos?

¿Por qué?

.....

4 Completa.



¿Qué propiedad de la suma hemos aplicado?

¿Qué establece esa propiedad?

.....

